



வலயக்கல்வி அலுவலகம் - வவுனியா வடக்கு

இரண்டாம் தவணைப் பரீட்சை - 2023

சித்திரக்கலை

தரம்: 08

நேரம் - 2.00 மணித்தியாலம்

பகுதி I

- 1 - 5 வரையான வினாக்களிற்கு தரப்பட்டுள்ள ஒளிப்படத்தை அவதானித்து விடை எழுதுக.



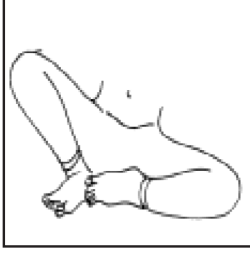
- 1) இவ் ஆக்கத்தின் பெயர்
- 2) காணப்படும் பிரதேசம்
- 3) நோக்கம்
- 4) கொட்டகை அலங்கரிப்பு
- 5) இவ் ஆக்கத்திற்கு பயன்படுத்தப்பட்ட பொருட்கள்

- 6-10 வரையான வினாக்களிற்கு மிகச்சரியான விடையை தெரிவு செய்து அதன் கீழ் கீறிடுக.

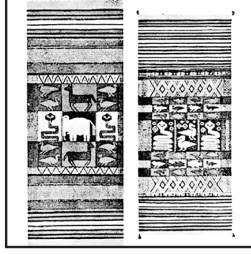
- 6) பன் கைத்தொழில் புரிவோரை எவ்வாறு அழைப்பர்?
 - 1) ஓடாவி
 - 2) புனிப்பாய்
 - 3) கின்னரை
 - 4) குயவர்
- 7) ஸ்பானியாவில் காணப்படும் ஐரோப்பிய வரலாற்றும் குகை எது,
 - 1) வஸ்கோ குகை
 - 2) கோகுல்
 - 3) அல்ராமீரா
 - 4) தந்திரமலை
- 8) வேண்டதல் அல்லது பிரார்த்தனை வணங்குதல் இனைக் குறிக்கும் முத்திரையினை எவ்வாறு அழைப்பர்
 - 1) வாத முத்திரை
 - 2) நமஸ்கார முத்திரை
 - 3) அபயமுத்திரை
 - 4) சின் முத்திரை

- 9) கழிவுப்போடுகளைக் கொண்டு ஆக்கங்கள் செய்யப்படும் முறை
 1) நெனோயிட் 2) மொனோ 3) வைனோ 4) கொலாஜ்
10. தாமரை வடிவில் அமைந்த ஆசன முறையை எவ்வாறு அழைப்பர்?
 1) பத்மாசனம் 2) பத்திராசனம் 3) வஜ்ராசனம் 4) லலிதசனம்

● 11 - 15 வினாக்களுக்கு தரப்பட்டுள்ள உருக்களை அவதானித்து விடை எழுதுக.



A



B



C



D



E

- 11) நியந்த மரம், கண மரத்தினை பயன்படுத்தி தயாரிக்கப்படும் வேலைப்பாட்டை காட்டும் எழுத்து
- 12) மட்பாண்ட கைத்தொழிலில் கைவனைச்சில்லினை காட்டும் எழுத்து எது?
- 13) மேலா உள்ள C எழுத்து குறிக்கும் ஆசன முறை.....
- 14) A எனும் எழுத்து குறிக்கும் ஆசன முறை
- 15) “கிரிபுர எத்தோ” எனும் கார்டூன் சித்திரம் குறிக்கும் எழுத்து.....

● 16 -20 வரையான வினாக்களுக்கு இடைவெளிக்குப் பொருத்தமான சொற்களைக் கொண்டு விடை எழுதுக.

பொம்மலாட்டம்	தடுக்கு	உத்பித	களனி	தூபாராம
--------------	---------	--------	------	---------

- 16) குழந்தைகளை படுக்க வைப்பதற்கு பயன்படுத்தும்ள பாய் ஆகும்.
- 17) தற்காலத்தில் மட்பாண்ட கைத்தொழிலுக்குப் பிரசித்தி பெற்ற இடமாக விளங்குகின்றது.
- 18) ஆதிகாலத்திலிருந்து பிரபல்யம் பெற்ற நிகழ்ச்சிஆகும்.
- 19) பாரம்பரிய அலங்கார வகைகளில் தாவர வகையினை என அழைக்கப்படும்.
- 20) இலங்கையில் முதலாவதாக அமைக்கப்பட்ட தாதுகோபம்ஆகும்.

● 21 -25 வரையான வினாக்களுக்கு சரியாயின் (✓) பிழையாயின் (×) அடையாளமிடுக.

- 21) பாதங்களை மடித்து கீழே ஸ்பரிசம் செய்யும் முறை பரியங்க ஆசனம் ஆகும். ()
- 22) நீளம், அகலத்தைக் கொண்டது முப்பரிமாணம் ஆகும். ()
- 23) ஜேதவன விகாரையில் புத்தபெருமானின் இடுப்புப்பட்டி காணப்படவில்லை ()
- 24) நெல்லிக்கனி, தாமரை வடிவ தூபி இந்தியாவில் காணப்படுகிறது. ()
- 25) சிவப்பு, மஞ்சள் , செம்மஞ்சள் குளிர் வர்ணங்களாகும். ()

● 26 -30 வரையான வினாக்களுக்கு ஒளிப்படத்தை அவதானித்து விடை எழுதுக.



- 26) இக் கலைப்படைப்பின் பெயர்
- 27) காணப்படும் குகை
- 28) நூற்றாண்டு
- 29) இக்குகை காணப்படும் இடம்
- 30) வர்ணம் பெறப்பட்ட முறை

(30 புள்ளிகள்)


பகுதி II

- பின்வருவனவற்றைச் இரேகைச் சித்திரமாக வரைக.

I. பெட்டி



II. இளநீர்



பகுதி III

- பின்வரும் தலைப்புக்களில் ஒன்றை தெரிவு செய்து வரைந்து வர்ணம் தீட்டுக.

- 1) சேவை முந்தானை ஒன்றிற்கான அலங்காரம்
- 2) இயற்கையின் அழகு
- 3) நீராடும் யானைகள்
- 4) சேலைகடகரை ஒன்றிற்கான அலங்காரம்
- 5) குசன் கவர் ஒன்றிற்கான அலங்காரம்
- 6) வட்டத்தட்டு ஒன்றிற்கான அலங்காரம்